

وقت: 10 منٹ




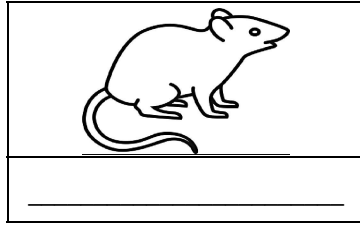



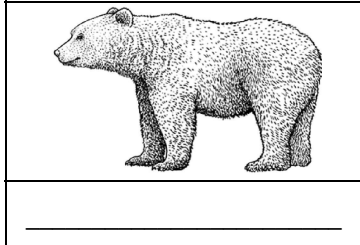
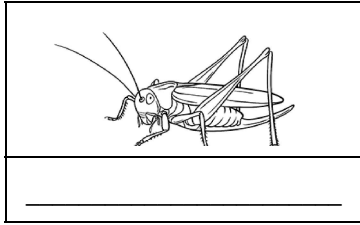

واقفیت عامہ (سوئم) ٹیسٹ نمبر 2

کل نمبر: 10

چوتھا مہینا، پہلا ہفتہ، دوسرا دن **اسلیبیں**: باب نمبر 8 (پہلا نصف): سرگرمی (صفحہ نمبر 49)

سوال نمبر 1۔ نیچے مختلف جانوروں کی تصاویر دی گئی ہیں۔ ہر جانور کی تصویر کے نیچے دی گئی جگہ میں اس جانور کا خوراک کے لحاظ سے گروہ لکھیں۔

(10)



وقت: 10 منٹ

واقفیت عامہ (سوئم) ٹیسٹ نمبر 2

کل نمبر: 10

چوتھا مہینا، پہلا ہفتہ، دوسرا دن **اسلیبیں**: باب نمبر 8 (پہلا نصف): سرگرمی (صفحہ نمبر 49)

سوال نمبر 1۔ نیچے مختلف جانوروں کی تصاویر دی گئی ہیں۔ ہر جانور کی تصویر کے نیچے دی گئی جگہ میں اس جانور کا خوراک کے لحاظ سے گروہ لکھیں۔

(10)

